


# UNSERE HEIMISCHEN FISCHE

## Aquarien-Haus

Volksschule



Wo befindet sich die Nase der Fische?

- a) an der Schnauzenspitze ( )
- b) knapp vor den Augen ( )

Können Fische die Augen bewegen?

- a) Ja ( )
- b) Nein ( )

Wieviele Flossen hat ein Fisch?

- a) drei ( )
- b) fünf ( )
- c) sieben ( )

Zu welchen dieser Fische gehören diese Rückenflossen?

**Äsche, Seelaube, Karausche, Bachforelle, Hecht, Flussbarsch**



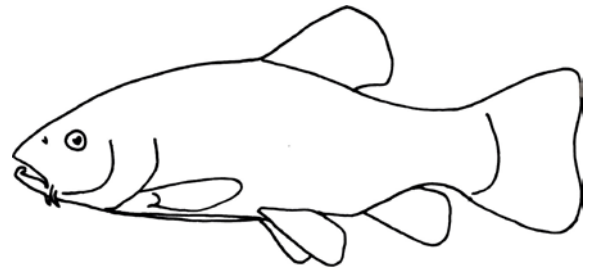
.....



.....

Suche diese Fische und ordne sie nach der Größe ihrer Schuppen ein:

**Aitel, Bachforelle, Schleie,**



a) kleine Schuppen

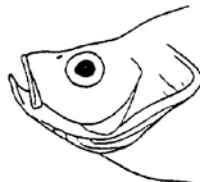
.....

b) große Schuppen

.....


Bei welchen dieser Fische (**Nase, Strömer, Alborella und Gründling**) ist das Maul

a) nach oben  
gerichtet  
(*oberständig*)



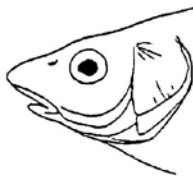
.....

b) in der Mitte  
(*mittelständig*)



.....

c) nach unten  
gerichtet  
(*unterständig*)



.....